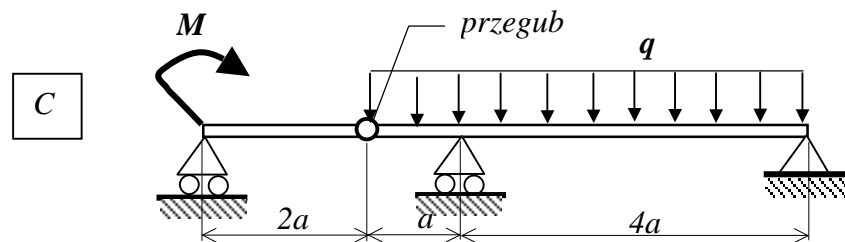
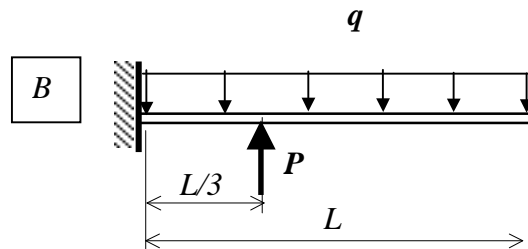
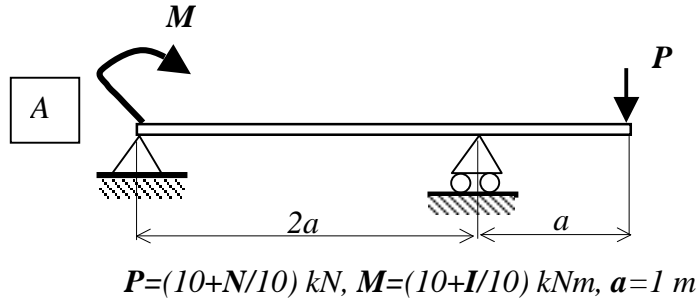


Zadanie domowe z WK I – seria VII (6 maja 2015r)  
 (gr. dr Piotra MARKA) czas na rozwiązanie – 1 tydzień

**Zad 1.** Wyznaczyć rozkłady momentu gnącego  $M_g$  i siły tnącej  $T$  dla przedstawionych na rysunkach belek



I - liczba liter imienia studenta  
 N- liczba liter nazwiska studenta